

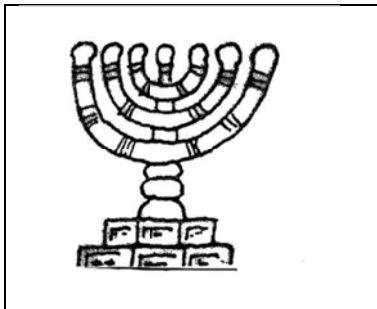


DALET

Chanoeka toets

Cijfer

Naam: _____



1 (1,5 pt) Noem drie van de verschillen tussen een menora en een chanoekia.


1 _____

2 _____

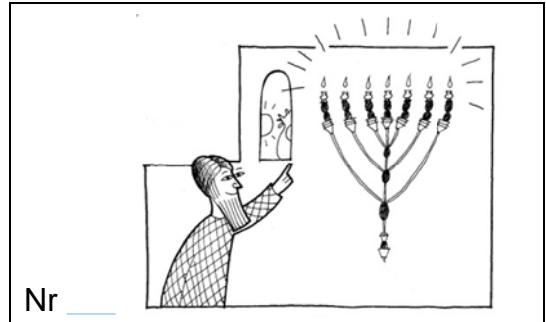
3 _____

2 (1,5 pt) Zet het verhaal van Chanoeka in de goede volgorde door de vakjes bij de tekeningen op de volgende bladzijde te nummeren van 1 tot en met 6.


3 (6 pt) Schrijf onder iedere tekening een korte toelichting: wat gebeurt er?



Nr _____



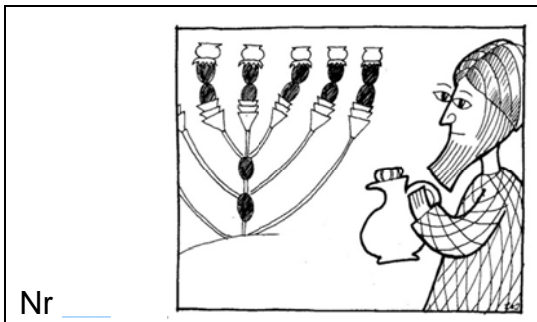
Nr _____




Nr _____



Nr _____



Nr _____



Nr _____

ANTWOORDENBLAD - CHANOEKA TOETS DALET

1 (3X 0,5 = 1,5pt)

Drie van de onderstaande antwoorden:

De menorah heeft zeven lichtjes en een chanoekia acht

De menorah heeft geen sjammasj en de chanoekia wel

De menorah is van goud en een chanoekia kan van allerlei materialen zijn gemaakt

De menorah brandde iedere dag en een chanoekia steek je alleen met Chanoeka aan

De menorah werd aangestoken met zuivere olijfolie, in een chanoekia kun je ook kaarsjes gebruiken.

De menorah hoort bij het beet hamikdasj, een chanoekia kan overal worden aangestoken: thuis, in sjoel, op straat etc.

2 (6 x 0,25 pt = 1,5 pt)

3, 6, 4, 1, 5, 2

3 (6 x 1 p = 6 pt)

1 De Hellenisten dwingen het joodse volk om voor afgoden te offeren, wanneer iemand dit wil doen breekt er een opstand uit.

2 De Hellenisten zetten de modernste 'wapens' van hun tijd in, waaronder olifanten. Ze hopen dat Makkabiem, de joodse soldaten zullen wegvluchten als ze deze enorme dieren zien.

3 Het lukt de Makkabiem om de Hellenisten te verslaan.

4 De Makkabiem veroveren het beet hamikdasj maar het is een enorme troep. Die gaan ze eerst opruimen.

5 Er is nog maar één kruikje kosjere olijfolie om de menorah aan te steken, voldoende voor 1 dag.

6 Door een wonder blijft de menorah 8 dagen branden, precies de tijd die nodig is om de voorraad olie weer aan te vullen.

NORMERING

Zie de normering per vraag op het vragenblad. Het maximum aantal punten is 9. Tel bij het totaal 1 punt bij. Dit is dan het cijfer. Als een leerling bijvoorbeeld 6,5 punt heeft gehaald, is het cijfer 7,5.